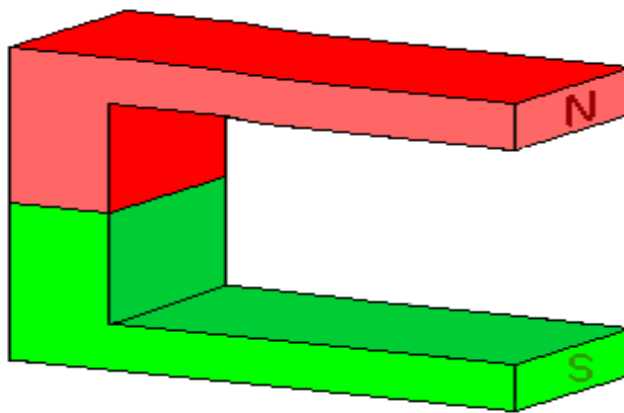




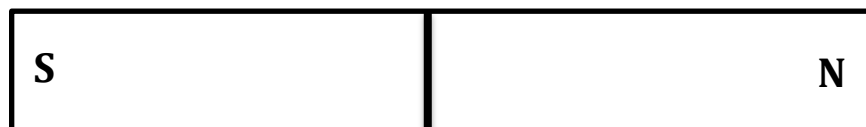
Arbeitsauftrag: Feldlinien

Zeichne die fehlenden Feldlinien ein und male den Südpol respektive den Nordpol mit der richtigen Farbe an.

1. Hufeisenmagnet



2. Stabmagnet

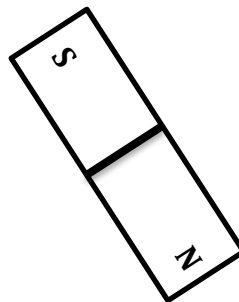




3. Gleiche Pole



4. Stabmagnet im Magnetfeld



5. Was für ein Magnet wird hier abgebildet? Skizziere diesen Magneten.

